

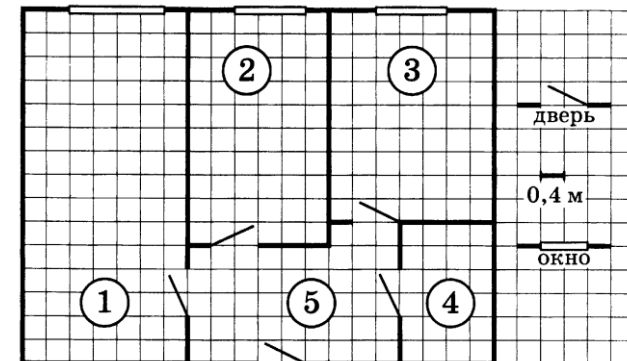
Часть 1

Ответами к заданиям 1–19 являются число или последовательность цифр, которые следует записать в БЛАНК ОТВЕТОВ № 1 справа от номера соответствующего задания, начиная с первой клеточки. Если ответом является последовательность цифр, то запишите её без пробелов, запятых и других дополнительных символов. Каждый символ пишите в отдельной клеточке в соответствии с приведёнными в бланке образцами.

Прочитайте внимательно текст и выполните задания 1-5

1

2023



На рисунке изображён план двухкомнатной квартиры в многоэтажном жилом доме. В правой части рисунка даны обозначения двери и окна, а также указано, что длина стороны клетки на плане соответствует 0,4 м. Вход в квартиру находится в прихожей. Справа от входа в квартиру располагаются кухня и санузел, причём площадь кухни больше площади санузла. Остальные два помещения – это спальня и гостиная. Гостиная имеет наибольшую площадь из всех помещений этой квартиры. Балкон и лоджия отсутствуют.

1 Для помещений, указанных в таблице, определите, какими цифрами они обозначены на плане. Заполните таблицу, в бланк перенесите последовательность пяти цифр.

Помещения	спальня	санузел	кухня	гостиная	прихожая
Цифры					

2 Из трёх окон квартиры одно шире двух других. Найдите ширину этого окна. Ответ дайте в сантиметрах.

Ответ: _____.

3 Плитка для пола размером 20 см × 20 см продаётся в упаковках по 10 штук. Сколько упаковок плитки необходимо купить, чтобы выложить пол санузла?

Ответ: _____.

4 Найдите площадь, которую занимает спальня. Ответ дайте в квадратных метрах.

Ответ: _____.

5 На сколько процентов площадь гостиной больше площади спальни?

Ответ: _____.

6 Найдите значение выражения

$$\frac{3}{5} : \frac{2}{15}$$

Ответ: _____.

7 На координатной прямой отмечены числа p , q и r .



Какая из разностей $q - p$, $q - r$, $r - p$ положительна?

- 1) $q - p$
- 2) $q - r$
- 3) $r - p$
- 4) ни одна из них

Ответ:

8 Найдите значение выражения

$$\frac{b^{5\sqrt{2}+4}}{(b^{\sqrt{2}})^5}$$

при $b = 4$.

Ответ: _____.

9 Найдите корень уравнения

$$\frac{12}{x+5} = -\frac{12}{5}$$

Ответ: _____.

- 10** В лыжных гонках участвуют 13 спортсменов из России, 2 спортсмена из Норвегии и 5 спортсменов из Швеции. Порядок, в котором спортсмены стартуют, определяется жребием. Найдите вероятность того, что первым будет стартовать спортсмен из Норвегии или Швеции.

Ответ: _____.

- 11** Установите соответствие между функциями и их графиками.

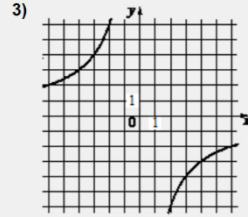
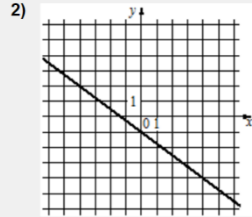
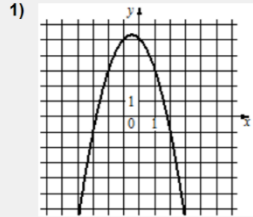
ФУНКЦИИ

А) $y = -x^2 - x + 5$

Б) $y = -\frac{3}{4}x - 1$

В) $y = -\frac{12}{x}$

ГРАФИКИ



В таблице под каждой буквой укажите соответствующий номер.

Ответ:

А	Б	В

- 12** Центробежное ускорение при движении по окружности (в м/с^2) вычисляется по формуле $a = \omega^2 R$, где ω – угловая скорость (в с^{-1}), R – радиус окружности (в метрах). Пользуясь этой формулой, найдите радиус R , если угловая скорость равна $8,5 \text{ с}^{-1}$, а центробежное ускорение равно $505,75 \text{ м/с}^2$. Ответ дайте в метрах.

Ответ: _____.

- 13** Укажите решение системы неравенств

$$\begin{cases} -35 + 5x < 0, \\ 6 - 3x > -18. \end{cases}$$

- 1) $(7; 8)$
 2) $(-\infty; 7)$
 3) $(-\infty; 8)$
 4) $(7; +\infty)$

Ответ:

- 14** В течение 20 банковских дней акции компании дорожали ежедневно на одну и ту же сумму. Сколько стоила акция компании в последний день этого периода, если в 9-й день акция стоила 555 рублей, а в 13-й день – 631 рубль?

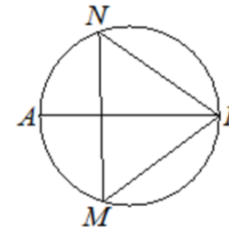
Ответ: _____.

- 15** Сумма двух углов равнобедренной трапеции равна 218° . Найдите меньший угол этой трапеции. Ответ дайте в градусах.



Ответ: _____.

- 16** На окружности по разные стороны от диаметра AB взяты точки M и N . Известно, что $\angle NBA = 36^\circ$. Найдите угол NMB . Ответ дайте в градусах.



Ответ: _____.

- 17 Два катета прямоугольного треугольника равны 6 и 7. Найдите площадь этого треугольника.



Ответ: _____.

- 18 На клетчатой бумаге с размером клетки 1×1 изображён параллелограмм. Найдите его площадь.



Ответ: _____.

- 19 Какие из следующих утверждений верны?

- 1) Если диагонали параллелограмма равны, то этот параллелограмм является ромбом.
- 2) Расстояние от точки, лежащей на окружности, до центра окружности равно радиусу.
- 3) В любом тупоугольном треугольнике есть острый угол.

В ответ запишите номера выбранных утверждений без пробелов, запятых и других дополнительных символов.

Ответ: _____.

Часть 2

При выполнении заданий 20–25 используйте **БЛАНК ОТВЕТОВ № 2**. Сначала укажите номер задания, а затем запишите его решение и ответ. Пишите чётко и разборчиво.

- 20 Решите уравнение

$$\frac{1}{x^2} + \frac{2}{x} - 3 = 0.$$

- 21 Свежие фрукты содержат 78% воды, а высушенные – 22%. Сколько сухих фруктов получится из 78 кг свежих фруктов?

- 22 Постройте график функции

$$y = |x|x - |x| - 3x.$$

Определите, при каких значениях m прямая $y = m$ имеет с графиком ровно две общие точки.

- 23 Катеты прямоугольного треугольника равны 18 и 24. Найдите высоту, проведённую к гипотенузе.

- 24 Известно, что около четырёхугольника $ABCD$ можно описать окружность и что продолжения сторон AB и CD четырёхугольника пересекаются в точке M . Докажите, что треугольники MBC и MDA подобны.

- 25 В равнобедренную трапецию, периметр которой равен 120, а площадь равна 540, можно вписать окружность. Найдите расстояние от точки пересечения диагоналей трапеции до её меньшего основания.